

I. A NEMZETÁLLAMOK KORA ÉS A GAZDASÁGI ÉLET ÚJ JELENSÉGEI

I./A témazáró feladatlap



1. a) Add meg a térkép jelmagyarozatát!

jelölés: _____

jelölés: _____

b) Húzd alá a felsorolásból, melyek illenek a jelölésű országra!

- | | |
|--------------------|---|
| Garibaldi | Bismarck |
| Königgrätz | Solferino |
| Elzász-Lotharingia | <input checked="" type="checkbox"/> hátultöltős puska |
| kancellár | <input checked="" type="checkbox"/> vöröskereszt |
| vörösingesek | jóvatétel |
| királyság | Piemont |

8	
pont	

2. Fejtsd meg az évszámrejtvényt! Miről nevezetes a megfejtés éve?

				<input type="checkbox"/>
<input checked="" type="checkbox"/>				<input type="checkbox"/>
				<input type="checkbox"/>
				<input type="checkbox"/>

- A Német Császárság kikiáltása
- A nagy pesti árvíz
- Az Ellenzéki Párt megalakulása
- Garibaldi partra száll Szicíliában

5	
pont	

A megoldás: _____

3. Sorold fel a nemzetállam jellemzőit!

4	
pont	

4. Határozd meg a fogalmakat!

utópia: _____

anarchisták: _____

keresztényszocialista: _____

6	
pont	

✘ 5. Írd a vonalakra és a térképre a megfelelő földrajzi neveket, majd jelöld a térképen a megfelelő jellel!

Az ópiumháború országa:

A szamurájok országa:

A búrok földrésze:

A jelölések:

 gyarmat

 félgymat

 független állam



9	
pont	

6. Írd a számokat a megfelelő intézmény neve alá!

Posta

Iskola

Bank

Minisztérium

Kórház

Rendőrség

Bíróság

Parlament

1. törvényhozás

3. hitelfelvétel

5. törvény előtti egyenlőség

2. az analfabetizmus csökkentése

4. közbiztonság

6. az átlagéletkor növekedése

6	
pont	

7. Alkoss mondatokat az alábbi fogalmakkal!

tankötelezettség: _____

szociálpolitika: _____

a világ műhelye: _____

✘ Európa nagymamája: _____

8	
pont	

8. Sorold fel, hogy mire fordíthatta pénzét a vállalkozó a gyarmatokon!

3	
pont	

9. Töltsd ki a táblázatot!

A feltaláló neve	A találmány neve
Thomas Alva Edison	
Graham Bell	
	léghajó
	írógép
Galamb T. József	
	filmvetítés

6	
pont	

10. Válaszolj az Amerikai Egyesült Államok polgárháborújához kapcsolódó villámkérdésekre!

a) Mi jellemezte az északi államok gazdaságát? _____

b) Mi támogatta a délieket a polgárháborúban? _____

c) Mi volt az ellentét fő oka? _____

d) Hogy hívták az északi államok szövetségét? _____

e) Ki volt a déli államok főparancsnoka? _____

f) Ki volt az Amerikai Egyesült Államok elnöke a polgárháború idején? _____

6	
pont	

11. Válassz egyet az itt látható témák közül! Írj róla rövid fogalmazást!

„Irány nyugat!” vagy A második ipari forradalom vagy A polgári állam


5	
pont	

12. Ábrázold az adatokat kördiagramokon!


„1860 körül Nagy-Britannia a világ vastermelésének 53%-át állította elő, itt bányászták a szén és lignit 50%-át, és a Föld nyersgyapottermelésének közel a felét is itt dolgozták fel. Termelési kapacitása elérte a világ össztermelésének 40-45%-át. Ez az ország bonyolította le a világ kereskedelmének egyötöd részét, az ipari termékek terén azonban kétötöd volt az arány. A világ kereskedelmi hajóinak [...] egyharmada angol zászló alatt közlekedett...”

(Doba Dóra–Eszterág Ildikó–Kojanitz László: *Történelem III. Újkor. Forrásgyűjtemény képességfejlesztő feladatokkal*. Műszaki Könyvkiadó, Budapest, 2005. 165. o.)


Lignittermelés



Ipari termékek



Kereskedelmi hajózás



9	
pont	


Maximális pontszám:	75
Elért pontszám:	


I./B témazáró feladatlap




8
pont

1. a) Add meg a térkép jelmagyarázatát!

 jelölés: _____

 jelölés: _____

b) Húzd alá a felsorolásból, melyek illenek a  jelölésű országra!

Garibaldi

Königgrätz

Elzász-Lotharingia

kancellár

vörösingések

királyság

Bismarck

Solferino

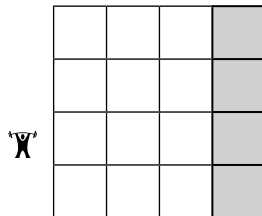
✘ hátultöltős puska

✘ vöröskereszt

jóvátétel

Piemont

2. Fejtsd meg az évszámrejtvényt! Miről nevezetes a megfejtés éve?



Az egységes Olasz Királyság kikiáltása Torinóban

A „népek tavasza”

A Nemzeti Színház megnyitása

Az Amerikai Egyesült Államok polgárháborújának kezdete

5
pont

A megoldás: _____

3. Nevez meg két olyan okot, amely a nemzetállamok létrejöttét sürgette!

4
pont

✘ 4. Határozd meg a fogalmakat!

szociáldemokrata: _____

marxista: _____

enciklika: _____

6
pont

✕ 5. Írd a vonalakra és a térképre a megfelelő földrajzi neveket, majd jelöld a térképen a megfelelő jellel!

A szipojok országa:

A sógun országa:

A fegyencek földrésze:

A jelölések:

-  gyarmat
-  félgymat
-  független állam



9	
pont	

6. Írd a számokat a megfelelő intézmény neve alá!

Posta	Iskola	Bank
Minisztérium		Kórház
Rendőrség		Bíróság
	Parlament	

1. hírközlés

2. cenzusos választás

3. szakirányítás

4. egységes jogrend

5. tankötelezettség

6. a járványok leküzdése

6	
pont	

7. Alkoss mondatokat az alábbi fogalmakkal!

tömegközlekedés: _____

✕ viktoriánus kor: _____

Kristálypalota: _____

tömegkultúra: _____

8	
pont	

8. Magyarázd meg, hogy a tőkekivitel miért hozott busás hasznot a vállalkozóknak!

3	
pont	

9. Töltsd ki a táblázatot!

A feltaláló neve	A találmány neve
Bánki Donát–Csonka János	
Carl Benz	
	telefonközpont
	X-sugár
Henry Ford	
	repülőgép

6	
pont	

10. Válaszolj az Amerikai Egyesült Államok polgárháborújához kapcsolódó villámkérdésekre!

a) Mi jellemezte a déli államok gazdaságát? _____

b) Mi támogatta az északiakat a polgárháborúban? _____

c) Mi volt az ellentét gazdasági oka? _____

d) Hogy hívták a déli államok szövetségét? _____

e) Ki volt az északi államok főparancsnoka? _____

f) Mi történt 1865. április 14-én Lincoln elnökkel? _____

6	
pont	

11. Válassz egyet az itt látható témák közül! Írj róla rövid fogalmazást!

„Irány nyugat!” vagy A második ipari forradalom vagy A polgári állam


5	
pont	

12. Ábrázold az adatokat kördiagramokon!


„1860 körül Nagy-Britannia a világ vastermelésének 53%-át állította elő, itt bányászták a szén és lignit 50%-át, és a Föld nyersgyapottermelésének közel a felét is itt dolgozták fel. Termelési kapacitása elérte a világ össztermelésének 40-45%-át. Ez az ország bonyolította le a világ kereskedelmének egyötöd részét, az ipari termékek terén azonban kétötöd volt az arány. A világ kereskedelmi hajóinak [...] egyharmada angol zászló alatt közlekedett...”

(Doba Dóra–Eszterág Ildikó–Kojanitz László: *Történelem III. Újkor. Forrásgyűjtemény képességfejlesztő feladatokkal*. Műszaki Könyvkiadó, Budapest, 2005. 165. o.)


Széntermelés



Kereskedelem



Vastermelés



9	
pont	

Maximális pontszám:	75
Elért pontszám:	

II. ÖNKÉNYURALOM ÉS KIEGYEZÉS. A DUALIZMUS KORA MAGYARORSZÁGON

II./A témazáró feladatlap

✂ 1. Állítsd számozással időrendbe a következő eseményeket!

		Az októberi diploma
		A népiskolai törvény
		A vérvörös csütörtök
		Haynau menesztése
		A földalatti megépülése
		A Szabadelvű Párt megalakulása
		A „húsvéti cikk”
		A Cassandra-levél

8	
pont	

2. Ábrázold az időszalagon Ferenc József császár uralkodási idejét!



3. Sorold fel, hogy mi minden készítette kiegyezésre a Habsburgokat!

6	
pont	

4. Bizonyítsd be, hogy az Osztrák–Magyar Monarchia dualista állam volt!

3	
pont	

5. Nevez meg három olyan ügyet, amelyet a két állam önállóan intézett a dualizmus idején!


3	
pont	

6. Húzd alá a dualizmus kori országgyűlésekre illő jelzőket!

6	
pont	

népkepviseleti rendi kétkamarás pozsonyi pesti évenkénti

7. Tanulmányozd a diagramokat! Vonj le két-két következtetést!



a) _____

b) _____

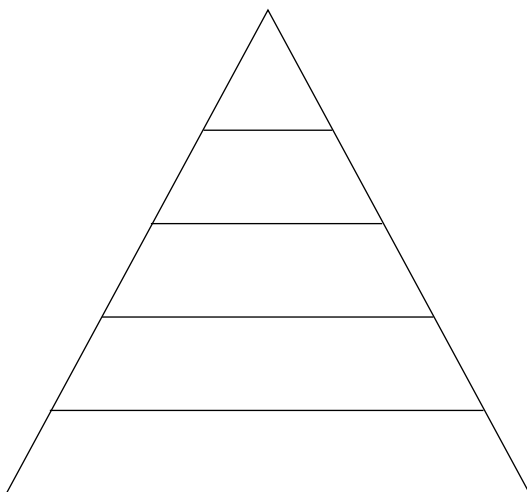
8
pont

8. Fogalmazd meg, hogyan járultak hozzá 1848 eseményei a dualista gazdaság fejlődéséhez!

2
pont

9. Készítsd el az iparból élők társadalmi piramisát! Írd be az ábrába a számokat, és jellemezd mind-egyik társadalmi réteget egy-egy fogalommal!

- | | | |
|-------------------|-------------------------|-------------------|
| 1. dzsentrí | 5. értelmiség | 9. kispolgár |
| 2. segédmunkás | 6. nagypolgár | 10. szakmunkás |
| 3. nagybirtokos | 7. zsellér | 11. agrárproletár |
| 4. gazdag paraszt | 8. szegény(ebb) paraszt | 12. középpolgár |



12
pont

10. Nevezd meg, kik voltak az alábbi személyek! Miért nevezték így őket?

a) a „szép akasztott”: _____

✘ b) a „pepita báró”: _____

6	
pont	

c) a „legnagyobb magyar”: _____

11. Húzd alá azokat a tevékenységeket, amelyeket a dualizmus kori polgárok végezhettek először!

bérletet váltottak az Operaházba

Munkácsy-kiállításra mentek

villamoson utaztak

egyetemre jártak

újságot olvastak

✘ sétáltak a Margit hídon

gőzhajójegyet vásároltak

könyvtárba jártak

4	
pont	

12. Válassz egyet az itt látható témák közül! Írj róla rövid fogalmazást!

A boldog békeidők vagy *A dualizmus válsága* vagy *A nemzetiségek*

5	
pont	

13. Elemezd Magyarország gazdasági mutatóit, és válaszolj a hozzájuk kapcsolódó kérdésekre!

	MDCCCLXXX	MCMXIII
Széntermelés	1013 ezer tonna	8954 ezer tonna
Vastermelés	146 ezer tonna	623 ezer tonna
Ácéltermelés	16 ezer tonna	800 ezer tonna

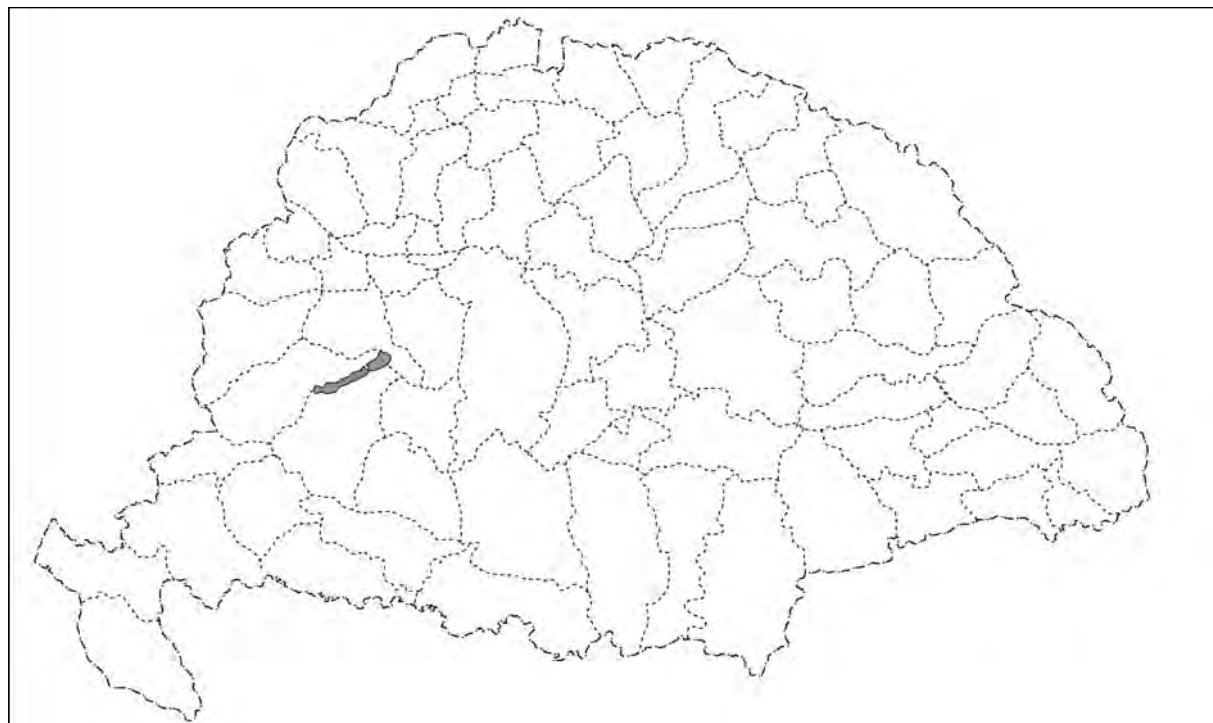
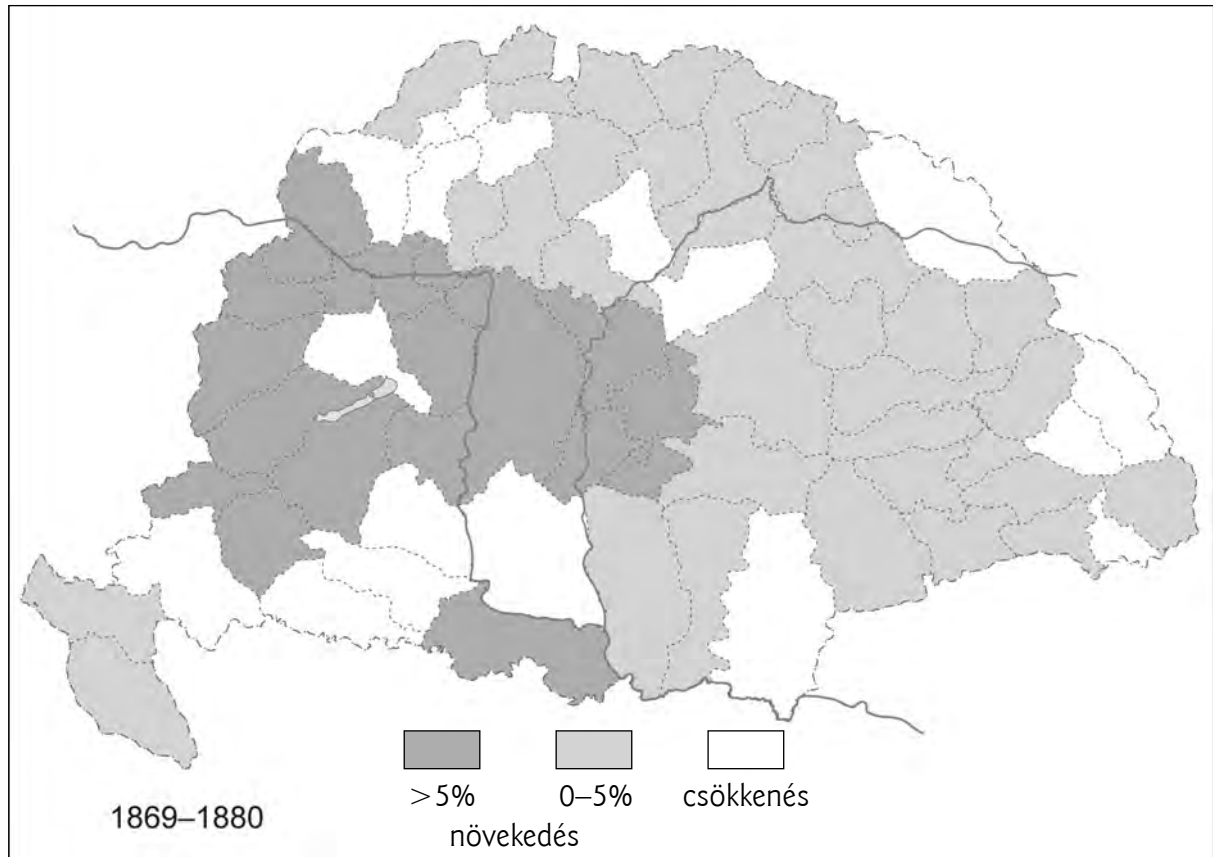
a) Számítsd ki, hány év alatt következett be a változás! _____

b) Minek a termelése növekedett a legnagyobb arányban? _____

c) Minek a termelése növekedett csaknem a kilencszeresére? _____

6	
pont	

14. Tanulmányozd a térképet! Jelöld csillaggal a vaktérképen három olyan megyét, ahol maximum 5% volt a népesség növekedése!



(A térkép Katus László: *Magyarok, nemzetiségek a népszaporulat tükrében* című műve alapján készült.)

6	
pont	

Maximális pontszám:	79
Elért pontszám:	

II./B témazáró feladatlap

✕ 1. Állítsd számozással időrendbe a következő eseményeket!

- | | |
|--|--|
| | A kiegyezés |
| | A Felirati Párt megalakulása |
| | Bach kinevezése |
| | A Magyarországi Szociáldemokrata Párt létrejötte |
| | Pest, Buda és Óbuda egyesítése |
| | A nemzetiségi törvény |
| | Millennium |
| | Tisza Kálmán miniszterelnökké választása |

8	
pont	

2. Ábrázold az időszalonon Ferenc József magyar király uralkodási idejét!



4	
pont	

3. Sorold fel, hogy mi minden készítette kiegyezésre a magyarokat!

6	
pont	

4. Bizonyítsd be, hogy a dualizmus idején létrejött új állam monarchia volt!

3	
pont	

5. Nevez meg hármat az Osztrák–Magyar Monarchia közös ügyei közül!

3	
pont	

6	
pont	

6. Húzd alá a dualizmus kori országgyűlésekre nem illő jelzőket!

népképviseleti rendi kétkamarás pozsonyi pesti évenkénti

7. Tanulmányozd a diagramokat! Vonj le két-két következtetést!



a) _____

b) _____

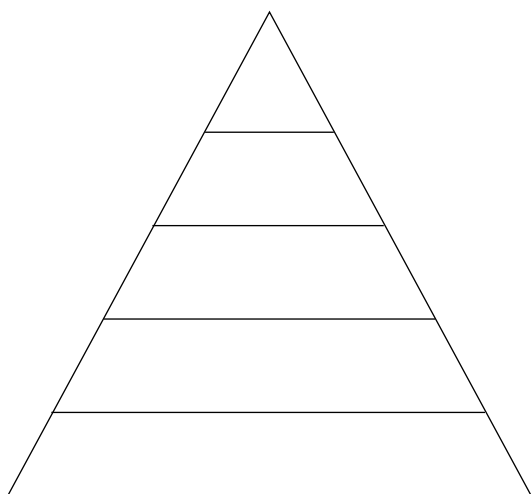
8	
pont	

8. Fogalmazd meg, hogyan járultak hozzá 1867 eseményei a dualista gazdaság fejlődéséhez!

2	
pont	

9. Készítsd el a mezőgazdaságból élők társadalmi piramisát! Írd be az ábrába a számokat, és jellemezd mindegyik társadalmi réteget egy-egy fogalommal!

- | | | |
|-------------------|-------------------------|-------------------|
| 1. dzsentrí | 5. értelmiség | 9. kispolgár |
| 2. segédmunkás | 6. nagypolgár | 10. szakmunkás |
| 3. nagybirtokos | 7. zsellér | 11. agrárproletár |
| 4. gazdag paraszt | 8. szegény(ebb) paraszt | 12. középpolgár |



12	
pont	

10. Nevezd meg, kik voltak az alábbi személyek! Miért nevezték így őket?

a) a „generális”:

✘ b) a „turini remete”:

c) a „haza bölcse”:

6	
pont	

11. Húzd alá azokat a tevékenységeket, amelyeket a dualizmus kori polgárok végeztek először!

ellátogattak a városligeti Vajdahunyad várába

utaztak a földalattin

Kaszinóba mentek

vonatra szálltak

Ady-kötetet vásároltak

beültek a Nemzeti Színházba

lóversenyre jártak

✘ rokonokra vártak a Keleti pályaudvaron

4	
pont	

12. Válassz egyet az itt látható témák közül! Írj róla rövid fogalmazást!

A boldog békeidők

vagy

A dualizmus válsága

vagy

A nemzetiségek

5	
pont	

13. Elemezd Magyarország gazdasági mutatóit, és válaszolj a hozzájuk kapcsolódó kérdésekre!

	MDCCCLXXX	MCMXIII
Széntermelés	1013 ezer tonna	8954 ezer tonna
Vastermelés	146 ezer tonna	623 ezer tonna
Acélttermelés	16 ezer tonna	800 ezer tonna

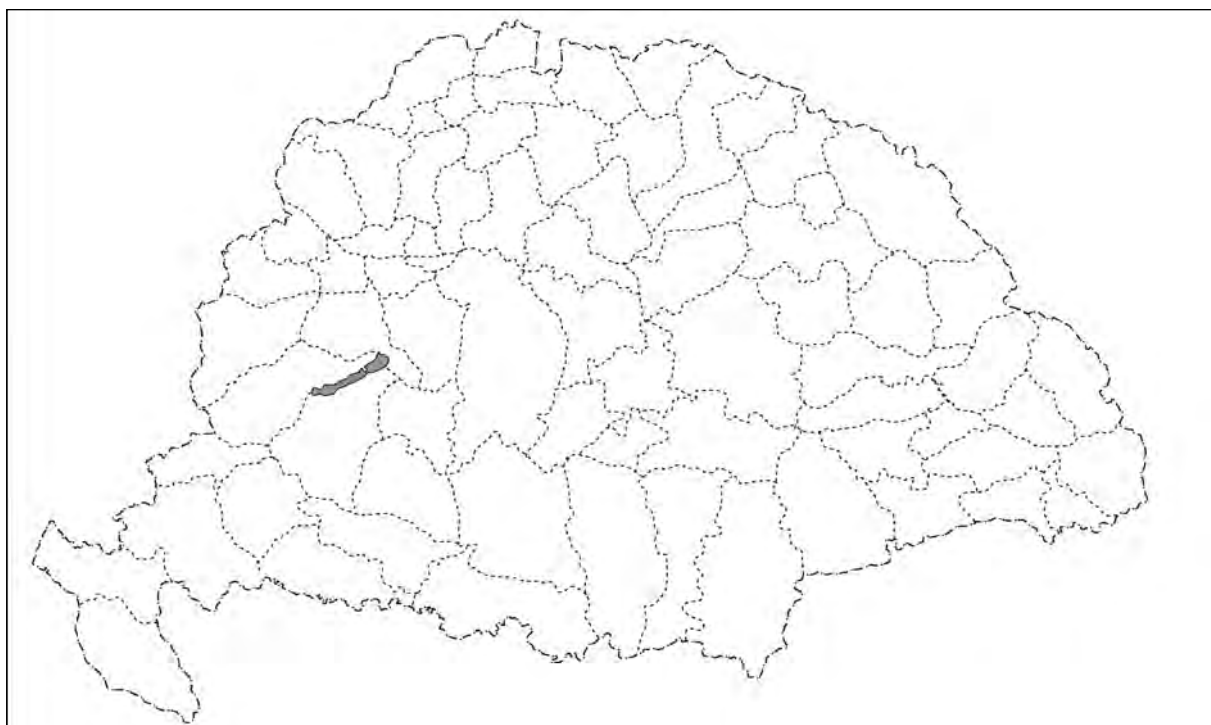
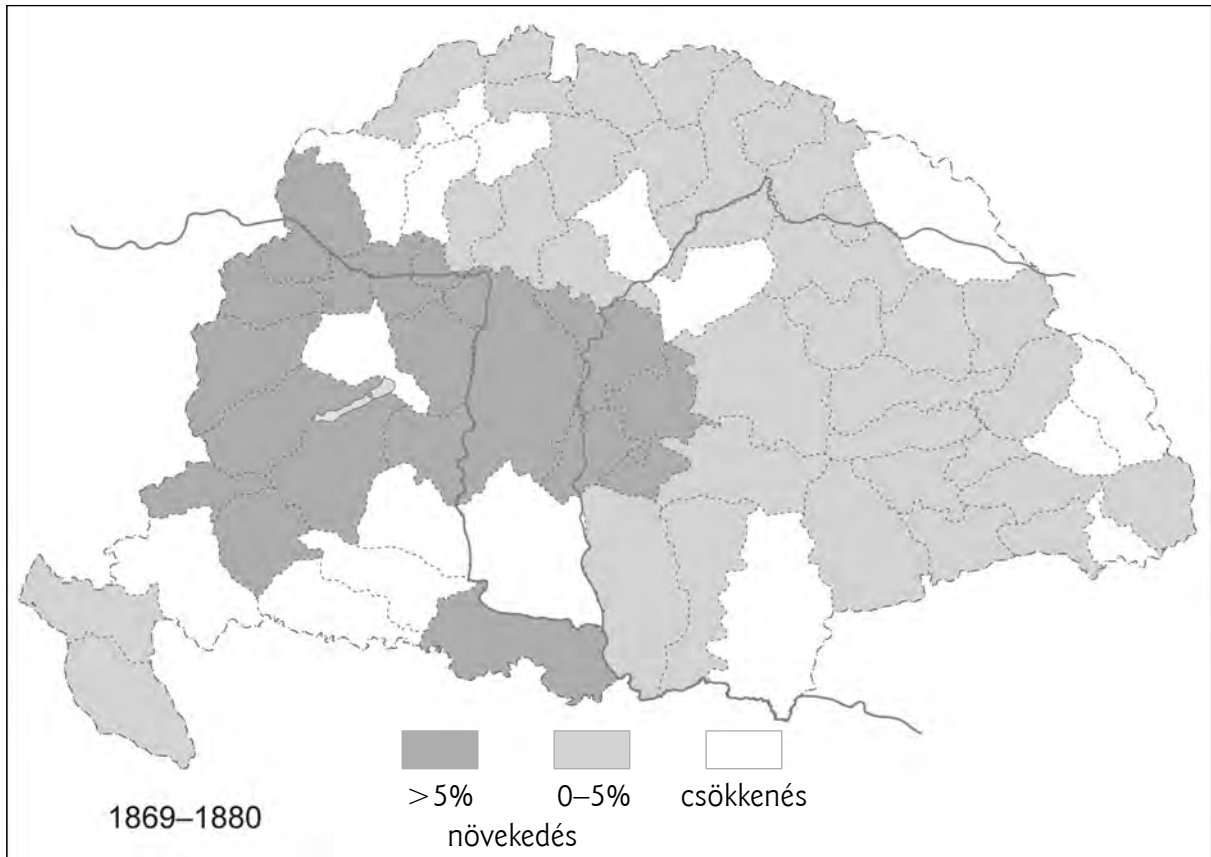
a) Számítsd ki, hány évtized változásait mutatja a táblázat! _____

b) Minek a termelése növekedett a legkisebb arányban? _____

c) Hányszorosára növekedett az acél termelése? _____

6	
pont	

14. Tanulmányozd a térképet! Jelölj csillaggal a vaktérképen három olyan megyét, ahol 5%-nál nagyobb volt a népesség növekedése!



(A térkép Katus László: *Magyarok, nemzetiségek a népszaporulat tükrében* című műve alapján készült.)

6	
pont	

Maximális pontszám:	79
Elért pontszám:	